

Paket

Deutschland M

„Grundlagen über Deutschland von der Nordsee
bis zu den Alpen“



Teilziele

Erdkunde M 5, 6

Materialien	Teilziele	✓
2, 14	Ich kenne die Nachbarstaaten der Bundesrepublik Deutschland.	
2	Ich kenne die Definition für einen Nachbarland.	
3, 13	Ich kenne die Bundesländer der Bundesrepublik Deutschland.	
3, 4, 5, 13, 16	Ich kenne die Hauptstädte der Bundesländer.	
3, 13	Ich kenne die Nachbarbundesländer von Baden-Württemberg	
7, 17	Ich kenne die wichtigsten Flüsse in Deutschland.	
7, 8, 17, 18	Ich kann die Flüsse auf einer stummen Karte beschriften.	
12, 19	Ich kenne die Mittelgebirge in Deutschland.	
12, 19	Ich kenne die höchsten Berge der Mittelgebirge.	



Stempelkarte

Erdkunde M 5, 6

Die Bundesrepublik
Deutschland

1

AB:
Nachbarländer der
Bundesrepublik
Deutschland

2

AB:
Die Bundesrepublik
Deutschland I

3

AB, INFO:
Daten der Bundesländer

4

AB:
Bundesländer und ihre
Hauptstädte

5

SPIEL:
Wo liegt was? Digitale
Lernspiele

6

AB:
Flüsse in Deutschland

7

AB:
Stumme Karte Flüsse in
Deutschland

8

SPIEL:
Flüsse und Seen in
Deutschland

9

AB:
Meere in Deutschland

10

AB:
Mittelgebirge in
Deutschland

11

AB:
Mittelgebirge in
Deutschland

12

Lösung: Die
Bundesrepublik
Deutschland I

13

AB:
Lösung Nachbarländer der
Bundesrepublik
Deutschland

14

Lösung: Daten der
Bundesländer

15

AB:
Lösung: Bundesländer und
ihre Hauptstädte

16

AB, INFO:
Lösung: Flüsse in
Deutschland

17

AB:
Lösung: Stumme Karte
Flüsse in Deutschland

18

AB:
Lösung: Mittelgebirge in
Deutschland

19



Bereitgestellt von:
Stand: 17.02.2022
Lizenzhinweise:



Die Bundesrepublik Deutschland

Erkunde M 5, 6

1



Bundesländer der Bundesrepublik Deutschland. Landeshauptstädte sind mit rotem Punkt markiert,



Bereitgestellt von:
Stand: 17.02.2022

Lizenzhinweise: <https://editor.mnweg.org/alemannenschule-wutoschingen/dokument/die-bundesrepublik-deutschland>

Seite: 1/1





- ① Nenne mithilfe der Karte im Material alle Länder, die sich mit der Bundesrepublik Deutschland, eine Außengrenze teilen.

- ② Überlege dir eine Definition für den Begriff Nachbarland.



Die Bundesrepublik Deutschland ist ungefähr 360000 Quadratkilometer groß. Das entspricht ungefähr 72000000 Fußballfeldern. Deutschland ist in 16 Bundesländer aufgeteilt. 3 Bundesländer unter ihnen sind sogenannte Stadtstaaten und sind die flächenmäßig kleinsten Staaten in Deutschland. Diese sind Berlin, Bremen und Hamburg. Alle anderen Staaten sind sogenannte Flächenstaaten. Von den 16 Bundesländern hat jedes seine eigene Landeshauptstadt.

① Trage in die Tabelle auf der nächsten Seite die jeweilige Landeshauptstadt zum Bundesland ein.

② Notiere alle Nachbarbundesländer von Baden-Württemberg

③ In der Tabelle findest du zu jedem Bundesland die Einwohnerzahl und die Fläche des Bundeslandes.

- Welches ist das größte und kleinstes Bundesland?
- In welchem Bundesland leben die meisten Einwohner und in welchem die wenigsten Einwohner?

Bundesland	Hauptstadt	Fläche	Einwohnerzahl
Baden-Württemberg		35752 km ²	11 Mio
Bayern		70552 km ²	13 Mio
Berlin		891 km ²	3,7 Mio
Bremen		404 km ²	0,7 Mio
Brandenburg		29480 km ²	2,5 Mio
Hamburg		755 km ²	1,8 Mio
Hessen		21115 km ²	6,2 Mio
Mecklenburg-Vorpommern		23182 km ²	1,6 Mio
Niedersachsen		47641 km ²	7,9 Mio
Nordrhein-Westfalen		34086 km ²	17,9 Mio
Rheinland-Pfalz		19853 km ²	4,1 Mio
Saarland		2568 km ²	1 Mio
Sachsen-Anhalt		20446 km ²	2,2 Mio
Schleswig-Holstein		15800 km ²	2,9 Mio
Thüringen		16172 km ²	2,2 Mio



① Ordne zu den jeweiligen Bundesländern die Hauptstädte zu.

Hessen ●	○ Saarbrücken
Brandenburg ●	○ Hamburg
Schleswig-Holstein ●	○ München
Mecklenburg-Vorpommern ●	○ Potsdam
Bayern ●	○ Hannover
Thüringen ●	○ Stuttgart
Sachsen ●	○ Berlin
Bremen ●	○ Wiesbaden
Sachsen-Anhalt ●	○ Magdeburg
Rheinland-Pfalz ●	○ Erfurt
Baden-Württemberg ●	○ Bremen
Berlin ●	○ Dresden
Saarland ●	○ Düsseldorf
Nordrhein-Westfalen ●	○ Schwerin
Hamburg ●	○ Mainz
Niedersachsen ●	○ Kiel



<https://online.seterra.comdevgp/3014>

Browserbasiertes Übungsspiel zu den Bundesländern der Bundesrepublik Deutschland.



<https://online.seterra.comdevgp>

Browserbasiertes Übungsspiel zu den Hauptstädten der Bundesländer.



Bestimmt kennst du schon einige Flüsse in Deutschland. Der Länge Fluss in Deutschland ist der Rhein. Er fließt von der Südgrenze Deutschlands bis in die Nordsee. Die Quelle des Rheins liegt in der Schweiz. Seine Mündung liegt in den Niederlanden. Wenn man die Gesamtlänge der Flüsse betrachtet, ist die Donau insgesamt viel länger. Sie entspringt in Deutschland in der Nähe von Donaueschingen und mündet ins Schwarze Meer. Neben den beiden Flüssen gibt es noch eine Reihe anderer Flüsse. Einige davon kannst du aus den beiden Karten entnehmen.

- ① Welche Bundesländer durchfließen die Flüsse: Isar, Inn, Donau, Neckar, Rhein, Naab, Mosel, Main, Lahn, Fulda, Werra, Saale, Havel, Spree, Weser, Ems und Elbe?
- ② Fülle die stumme Karte mit den Namen der Flüsse Deutschlands aus.

AB: Stumme Karte Flüsse in Deutschland

Erdkunde M 5, 6

8



Stumme Karte Deutschland



Bereitgestellt von:
Stand: 17.02.2022

Lizenzhinweise: <https://editor.mnweg.org/alemannenschule-wutoschingen/dokument/stumme-karte-flusse-in-deutschland>

Seite: 1/1





<https://online.seterra.comdevgp/3304>

Browserbasiertes Spiel zum üben der Flüsse und Seen in Deutschland.

Deutschland liegt an der Küste von zwei Meeren. Im Nordwesten Deutschlands liegt die Nordsee, die ein Teilmeer des Atlantiks ist. Es gibt starke Gezeiten (Ebbe/Flut), wodurch die Küste mit Watt bedeckt ist. Im Nordosten Deutschlands liegt die Ostsee. Die Ostsee ist ein sogenanntes Binnenmeer. Es hat nur einen schmalen Zufluss zum Atlantik. Es gibt daher wenig bis gar keine Ebbe und Flut. Ausserdem ist der Salzgehalt des Wasser wesentlich niedriger als an der Nordsee.

Die Nordsee - Nordsee Wissen

Diese aufwändig gestaltete Dokumentation zeigt das bunte, facettenreiche Gesicht der Nordsee, seiner Küste und Bewohner. Die Nordsee ist das Meer, das ...



YouTube-
Video

Link: https://youtu.be/xUYty_-7tHI

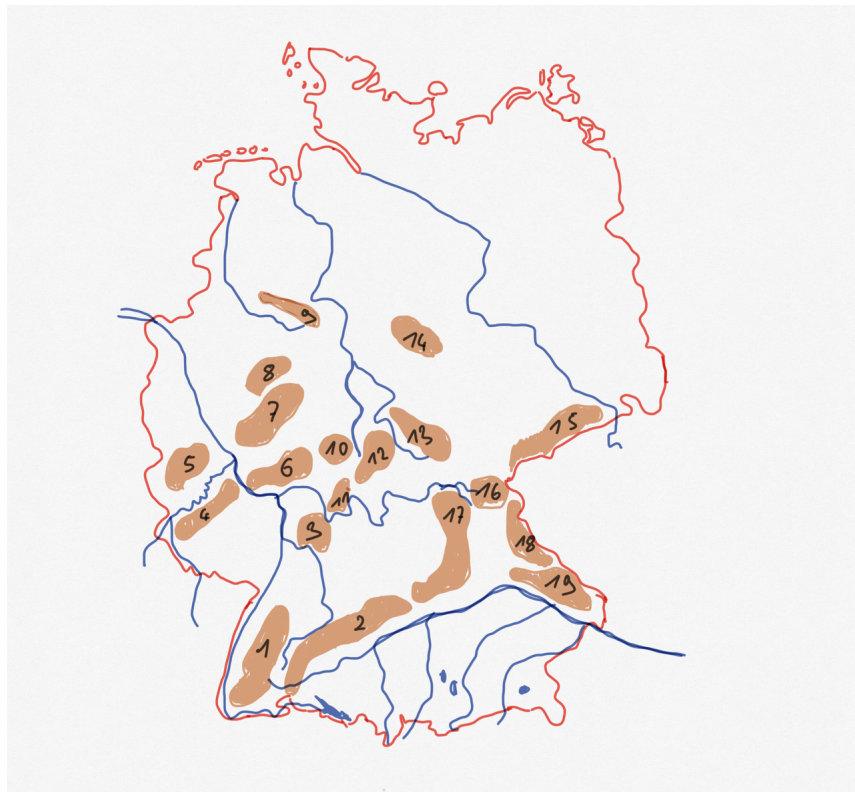
Die Nordsee - Faszination Wattenmeer (2007) [Dokumentation] | ganzer Film (deutsch)

Diese aufwändig gestaltete Dokumentation zeigt das bunte, facettenreiche Gesicht der Nordsee, seiner Küste und Bewohner. Die Nordsee ist das Meer, das ...



YouTube-
Video

Link: <https://youtu.be/24FV66DnJgY>



Mittelgebirge in Deutschland

	Gebirge	Höchste Erhebung	Höhe in m
1	Schwarzwald	Feldberg	1493
2	Schwäbische Alb	Lemberg	1016
3	Odenwald	Katzenbuckel	627
4	Hunsrück	Erbeskopf	816
5	Eifel	Hohe Acht	746
6	Taunus	Großer Feldberg	881
7	Westerwald	Fuchskaute	657
8	Rothaargebirge	Langenberg	843
9	Teutoburger Wald	Barnacken	446
10	Vogelsberg	Taufstein	773
11	Spessart	Geiersberg	586
12	Rhön	Wasserkuppe	950
13	Thüringer Wald	Großer Beerberg	982
14	Harz	Brocken	1141
15	Erzgebirge	Fichtelberg	1214
16	Fichtelgebirge	Schneeberg	1051
17	Fränkische Alb	Dürrenberg	656
18	Oberpfälzer Wald	Kreuzfelsen	938
19	Bayerischer Wald	Großer Arber	1455

Mittelgebirge und ihre höchsten Berge



① Nenne die 5 höchsten Mittelgebirge in Deutschland

② Nenne die Mittelgebirge, die in Baden-Württemberg liegen.
Nutze dazu die beiden Karten im Material

③ Ordne zu!

- | | |
|-------------------|----------------|
| Fichtelgebirge ● | ○ Lemberg |
| Odenwald ● | ○ Feldberg |
| Schwarzwald ● | ○ Taufstein |
| Bayrischer Wald ● | ○ Schneekopf |
| Vogelsberg ● | ○ Hohe Acht |
| Schwäbische Alb ● | ○ Brocken |
| Eifel ● | ○ Großer Arber |
| Harz ● | ○ Katzenbuckel |

Die Bundesrepublik Deutschland ist ungefähr 360000 Quadratkilometer groß. Das entspricht ungefähr 72000000 Fußballfeldern. Deutschland ist in 16 Bundesländer aufgeteilt. 3 Bundesländer unter ihnen sind sogenannte Stadtstaaten und sind die flächenmäßig kleinsten Staaten in Deutschland. Diese sind Berlin, Bremen und Hamburg. Alle anderen Staaten sind sogenannte Flächenstaaten. Von den 16 Bundesländern hat jedes seine eigene Landeshauptstadt.

- ① Trage in die Tabelle auf der nächsten Seite die jeweilige Landeshauptstadt zum Bundesland ein.
- ② Notiere alle Nachbarbundesländer von Baden-Württemberg
 - Bayern
 - Hessen
 - Rheinland-Pfalz
- ③ In der Tabelle findest du zu jedem Bundesland die Einwohnerzahl und die Fläche des Bundeslandes.
 - Welches ist das größte und kleinste Bundesland?
Bayern , Bremen
 - In welchem Bundesland leben die meisten Einwohner und in welchem die wenigsten Einwohner?
Nordrhein-Westfalen, Bremen

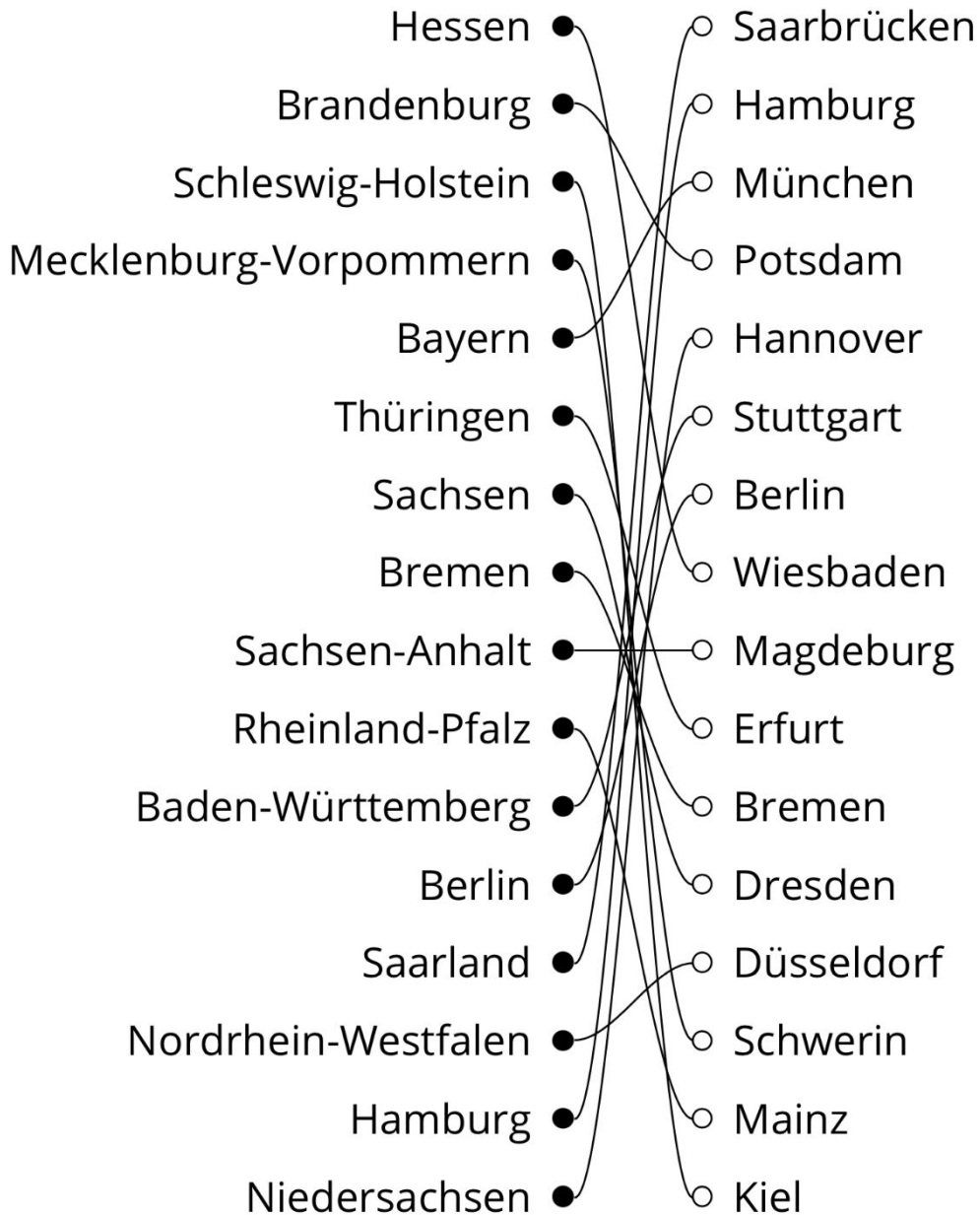


- ① Nenne mithilfe der Karte im Material alle Länder, die sich mit der Bundesrepublik Deutschland, eine Außengrenze teilen.
 - Niederlande
 - Belgien
 - Luxemburg
 - Frankreich
 - Schweiz
 - Österreich
 - Tschechien
 - Polen
 - Dänemark

- ② Überlege dir eine Definition für den Begriff Nachbarland.
 - Ein Nachbarland ist ein Staat, der sich eine direkte Landesgrenze mit einem Staat teilt. Dabei werden Länder, zwischen denen ein Meer die Ländergrenzen teilt, nicht als Nachbarland gewertet.

Bundesland	Hauptstadt	Fläche	Einwohnerzahl
Baden-Württemberg	Stuttgart	35752 km ²	11 Mio
Bayern	München	70552 km ²	13 Mio
Berlin	Berlin	891 km ²	3,7 Mio
Bremen	Bremen	404 km ²	0,7 Mio
Brandenburg	Potsdam	29480 km ²	2,5 Mio
Hamburg	Hamburg	755 km ²	1,8 Mio
Hessen	Wiesbaden	21115 km ²	6,2 Mio
Mecklenburg-Vorpommern	Schwerin	23182 km ²	1,6 Mio
Niedersachsen	Hannover	47641 km ²	7,9 Mio
Nordrhein-Westfalen	Düsseldorf	34086 km ²	17,9 Mio
Rheinland-Pfalz	Mainz	19853 km ²	4,1 Mio
Saarland	Saarbrücken	2568 km ²	1 Mio
Sachsen-Anhalt	Magdeburg	20446 km ²	2,2 Mio
Schleswig-Holstein	Kiel	15800 km ²	2,9 Mio
Thüringen	Erfurt	16172 km ²	2,2 Mio

① Ordne zu den jeweiligen Bundesländern die Hauptstädte zu.



Bestimmt kennst du schon einige Flüsse in Deutschland. Der Länge Fluss in Deutschland ist der Rhein. Er fließt von der Südgrenze Deutschlands bis in die Nordsee. Die Quelle des Rheins liegt in der Schweiz. Seine Mündung liegt in den Niederlanden. Wenn man die Gesamtlänge der Flüsse betrachtet, ist die Donau insgesamt viel länger. Sie entspringt in Deutschland in der Nähe von Donaueschingen und mündet ins Schwarze Meer. Neben den beiden Flüssen gibt es noch eine Reihe anderer Flüsse. Einige davon kannst du aus den beiden Karten entnehmen.

- ① Welche Bundesländer durchfließen die Flüsse: Isar, Inn, Donau, Neckar, Rhein, Naab, Mosel, Main, Lahn, Fulda, Werra, Saale, Havel, Spree, Weser, Ems und Elbe?
- Isar: Bayern
 - Inn: Bayern
 - Donau: Baden-Württemberg, Bayern
 - Neckar: Baden-Württemberg, Hessen
 - Rhein: Baden-Württemberg, Hessen, Rheinland-Pfalz Nordrhein-Westfalen
 - Naab: Bayern
 - Mosel: Rheinland-Pfalz, Saarland
 - Main: Bayern, Hessen
 - Lahn: Nordrhein-Westfalen, Rheinland-Pfalz, Hessen
 - Fulda: Hessen, Niedersachsen
 - Werra: Thüringen, Hessen, Niedersachsen
 - Saale: Bayern, Thüringen, Sachsen-Anhalt
 - Havel: Mecklenburg-Vorpommern, Brandenburg, Berlin, Sachsen-Anhalt
 - Spree: Sachsen, Brandenburg, Berlin
 - Ems: Nordrhein-Westfalen, Niedersachsen
 - Elbe: Sachsen, Sachsen-Anhalt, Brandenburg, Niedersachsen, Hamburg, Schleswig-Holstein.
- ② Fülle die stumme Karte mit den Namen der Flüsse Deutschlands aus.



Lösung stumme Karte

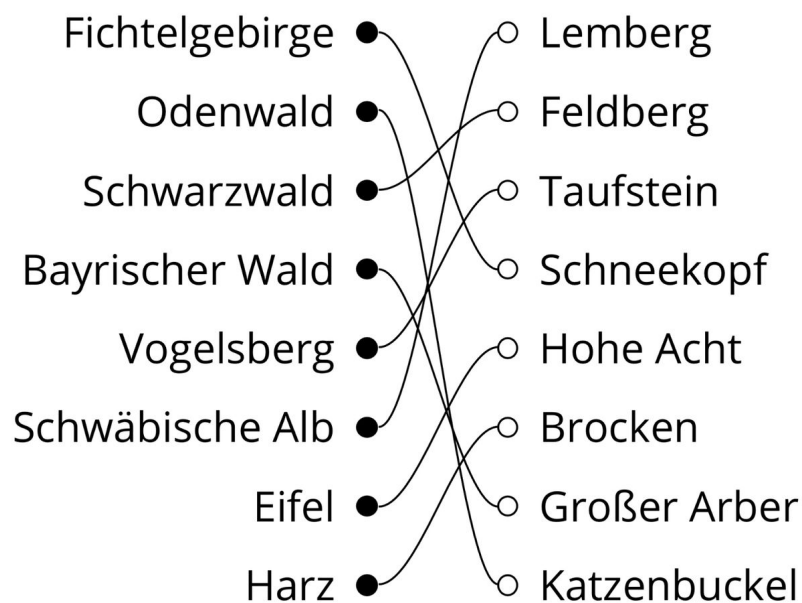
① Nenne die 5 höchsten Mittelgebirge in Deutschland

- Schwarzwald (1493m)
- Bayrischer Wald (1456m)
- Erzgebirge (1244m)
- Harz (1141m)
- Fichtelgebirge (1053m)

② Nenne die Mittelgebirge, die in Baden-Württemberg liegen.
Nutze dazu die beiden Karten im Material

- Schwarzwald
- Odenwald
- Schwäbische Alb

③ Ordne zu!



Lösungen

Deutschland M





<https://online.seterra.comdevgp/3014>

Browserbasiertes Übungsspiel zu den Bundesländern der Bundesrepublik Deutschland.



<https://online.seterra.comdevgp>

Browserbasiertes Übungsspiel zu den Hauptstädten der Bundesländer.



<https://online.seterra.comdevgp/3304>

Browserbasiertes Spiel zum üben der Flüsse und Seen in Deutschland.